
 <b>03100713</b>		Dibujo Técnico (PCE)		100
		PRUEBA DE ACCESO A LA UNIVERSIDAD		
Septiembre - 2017	Duración: 90 min.	EXAMEN: Tipo - Desarrollo	MODELO 12	
El material escrito indicado en el examen				Hoja 1 de 2

DIB-12

- 1) Conteste breve y concisamente a una de las dos preguntas siguientes:
- 1.A) Perspectivas axonométricas ortogonales. Ejemplos prácticos.
  - 1.B) Generación gráfica de una parábola. Ejemplo.

**(Valor: hasta 3 puntos)**

- 1) Briefly and concisely, answer only one of the following two questions:

- 1.A) Orthogonal axonometric perspectives. Practical examples.
- 1.B) Graphic generation of a parabola. Example.

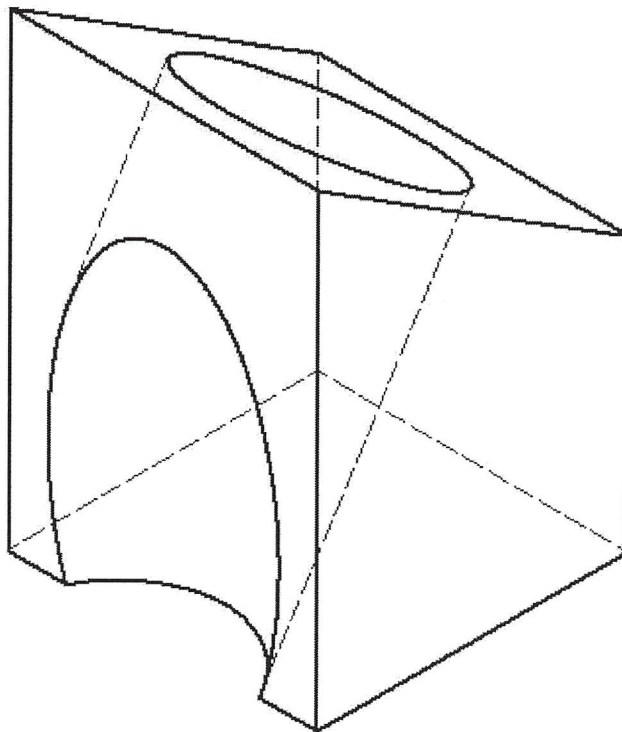
**(Value: up to 3 points)**

- 2) Dada la pieza representada en la figura dibujar, a lápiz y a la escala más apropiada al papel A3 disponible, las seis vistas de la misma en sistema diédrico europeo. No es necesario tener en cuenta el coeficiente corrector 0,816.



**(Valor: hasta 3,5 puntos)**

- 2) Given the piece represented in the figure, draw in pencil and at the most appropriate scale to available A3 drawing sheet the six views of the piece in first angle projection (european projection). It is not necessary to take into account the isometric scale factor 1.225.

**(Value: up to 3.5 points)**



Escala 1:1  
Scale 1:1

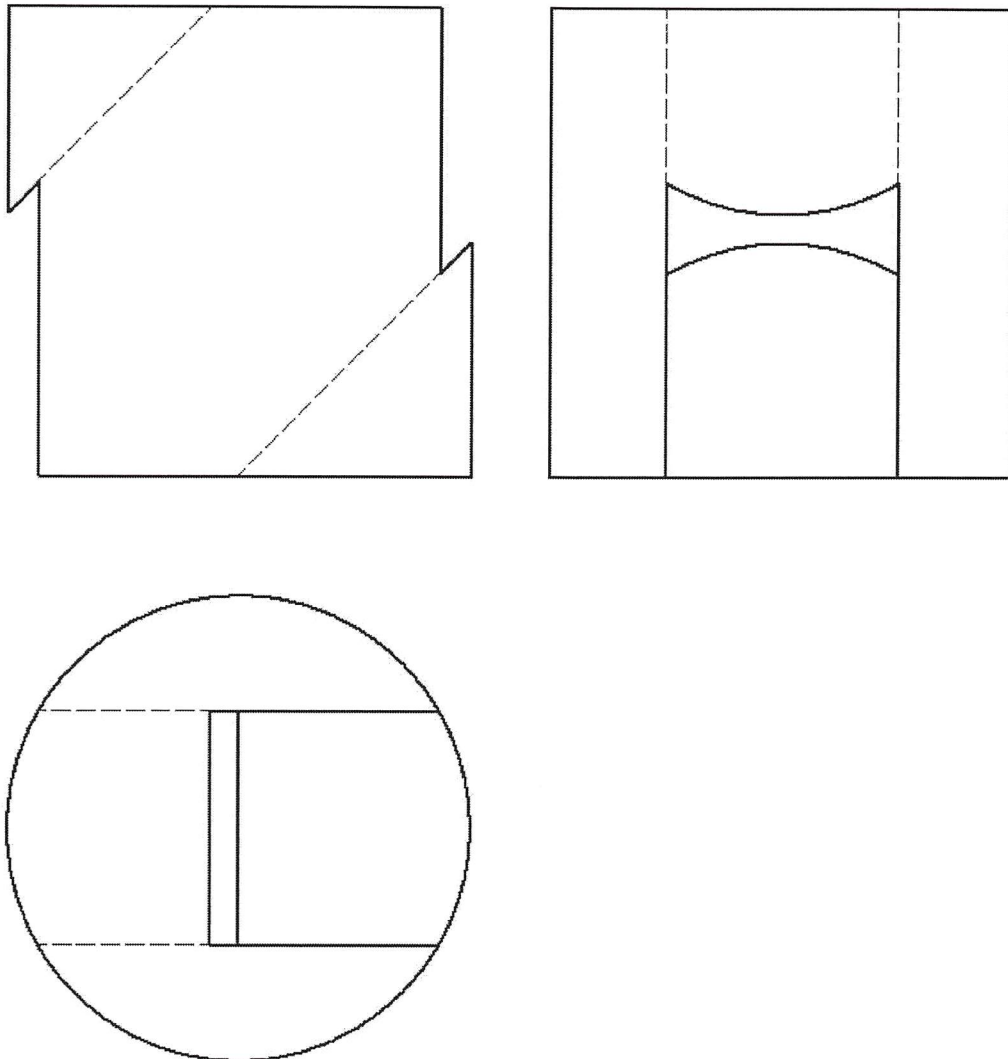
 <b>03100713</b>		Dibujo Técnico (PCE)		100
		PRUEBA DE ACCESO A LA UNIVERSIDAD		
Septiembre - 2017	Duración: 90 min.	EXAMEN: Tipo - Desarrollo	MODELO 12	
El material escrito indicado en el examen				Hoja 2 de 2

3) Dada la pieza representada en la figura en sistema diédrico europeo, dibujar, a lápiz y a la escala más apropiada al papel A3 disponible, la perspectiva axonométrica isométrica de la misma. No es necesario tener en cuenta el coeficiente corrector 0,816.

**(Valor: hasta 3,5 puntos)**

3) Given the piece represented in the figure in first angle projection (european projection), draw in pencil and at the most appropriate scale to available A3 drawing sheet the isometric projection of the piece. It is not necessary to take into account the isometric scale factor 1.225.

**(Value: up to 3.5 points)**



Escala 1:5  
Scale 1:5